



СТРУКТУРЫ ХОЗЯЙСТВА

- Что такое МГРТ?
- Какие страны мира входят в АСЕАН?
- Назовите несколько государств-членов ОПЕК
- Приведите примеры ТНК

РАЗВИТИЕ СТРУКТУРЫ

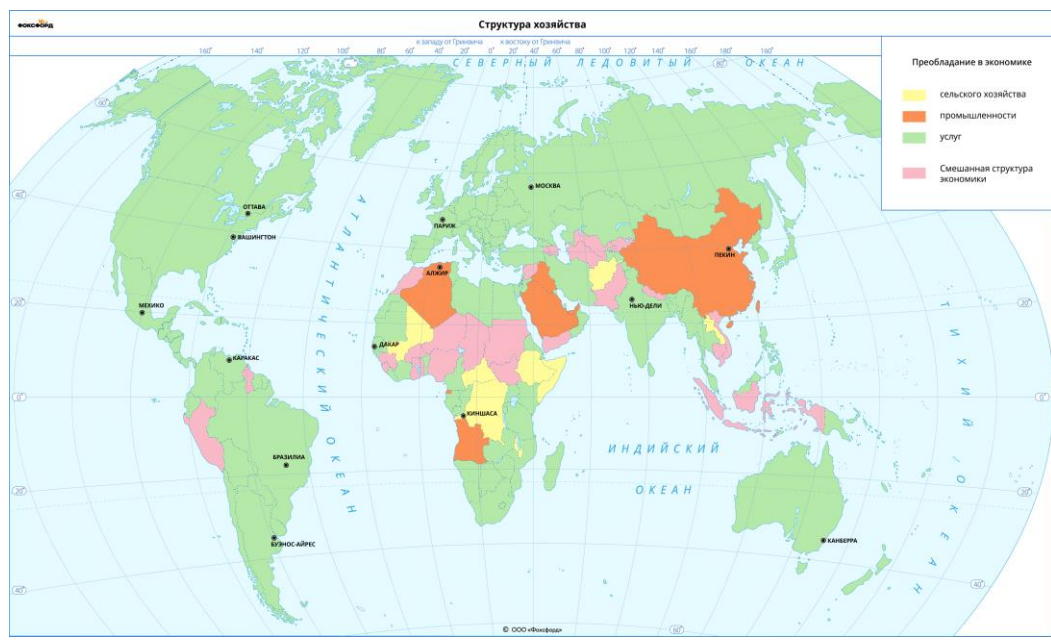


- 1 За свою историю человечество в своем развитии прошло три последовательных стадии развития
- 2 Для каждой из них был характерен свой тип хозяйственной структуры
- 3 Со временем в обществе осуществлялся переход между этими стадиями



СЕКТОРЫ МИРОВОЙ ЭКОНОМИКИ

Традиционно в мировой экономики выделяют три сектора: аграрный (первичный), промышленный (вторичный) и сферу услуг (третичный). Каждое предприятие, приносящее доход в ВВП относится к одному из этих секторов. Так по их доходу и формируется структура хозяйства для каждого гос-ва

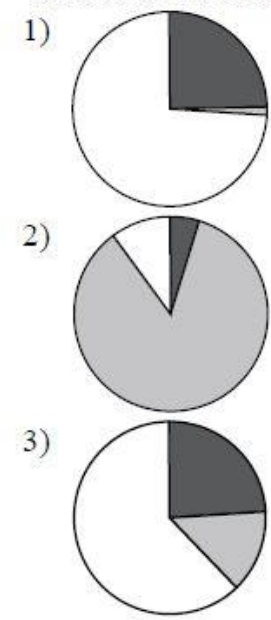


■ – промышленность ■ – сельское хозяйство □ – сфера услуг

СТРАНА

- А) Мексика
- Б) Германия
- В) Эфиопия

РАСПРЕДЕЛЕНИЕ ЭКОНОМИЧЕСКИ АКТИВНОГО НАСЕЛЕНИЯ



- Установите соответствие между страной и его распределением экономически активного населения
- Как будут называться страны, у которых в структуре хозяйства преобладает с/х?

1. ДОИНДУСТРИАЛЬНАЯ СТРУКТУРА



- 1 Это была эпоха аграрного общества
- 2 В экономику государств наибольший доход приносили сельское хозяйство, лесная и рыбная промышленность
- 3 Сейчас такая структура сохранилась в наиболее отсталых странах мира



В структуре ВВП Сомали, Эфиопии, Афганистана, Лаоса, Камбоджи и Непала на долю сельского хозяйства все еще приходится до 50%. А доля экономически активного населения, занятого в этой отрасли может достигать 90%



- Покажите на карте мира эти государства
- Почему в них так велика доля людей, занятых в с/х?

2. ИНДУСТРИАЛЬНАЯ СТРУКТУРА



- 1 Преобладала во всех развитых странах до середины XX века
- 2 В экономику государств наибольший доход приносили отрасли производственной сферы (строительство, металлургия, иные виды промышленности)
- 3 Сейчас в мире нет стран, где на долю вторичного сектора приходилось бы более 50% от ВВП
- 4 К индустриальным странам все же можно отнести Китай и государства Персидского залива, занимающиеся добычей и переработкой нефти



ИНДУСТРИАЛЬНЫЕ СТРАНЫ



В современном мире это, прежде всего, Саудовская Аравия, Кувейт, ОАЭ, Иран, Катар. Достаточно высока эта доля и в Китае. До недавнего времени в нее входили многие страны СНГ



- Почему страны с такой развитой промышленностью как Германия и Япония не относятся сейчас к индустриальным?


3. ПОСТИНДУСТРИАЛЬНЫЕ СТРУКТУРА

- 1 Начала формироваться в странах с переходом к НТР
- 2 Произошел переход в экономике от производства к оказанию услуг
- 3 Произошла информатизация и роботизация производства, стали более котироваться работники умственного труда



ПОСТИНДУСТРИАЛЬНЫЕ СТРАНЫ

На начало XXI века в США, Японии, Канаде и Германии доля третичного сектора в ВВП составляла до 80%, а в России почти 60%. В карликовых странах (Сейшельские острова, Багамы, Монако) эта цифра доходит до 95%. По всему миру становятся востребованы совсем не те профессии, что в эпоху индустриализации




- Какие профессии сейчас отходят на второй план?
- Есть ли что-то негативное в таком развитии общества?

ВЛИЯНИЕ НТР НА СТРУКТУРУ ХОЗ-ВА



- 1 НТР позволила вывести большой процент людей из работы в первичном и вторичном секторах экономики
- 2 Выделилась «авангардная тройка» отраслей промышленности – машиностроение, энергетика и химическая пром.
- 3 В с/х возросла роль животноводства
- 4 Уменьшилась роль ж/д транспорта в пользу авто-, авиа- и морского



АВТОМОБИЛЬНЫЙ ТРАНСПОРТ

С развитием НТР возрастает роль автомобильного транспорта, который вытесняет железнодорожный. Связано это с тем, что именно автомобильный транспорт осуществляет перевозки «от двери к двери», чего часто не может реализовать ж/д



ФИНАЛЬНЫЕ ВОПРОСЫ



Что понимается под структурой хозяйства?

1

Какие три сектора экономики вы знаете?

2

В чем заключается аграрная структура хозяйства?

3

Какие государства сейчас имеют аграрную структуру?

4

В чем заключается индустриальная структура хозяйства?

5

Какую структуру хозяйства имеют все развитые страны?

6

Какое явление этому способствовало?

7